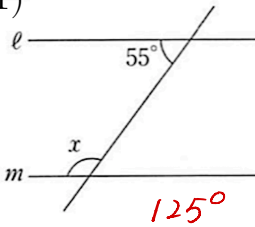


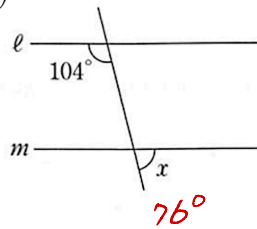
【中2数学 | 角度】

【1】 次の図で、 $l \parallel m$ のとき、 $\angle x$ の大きさを求めなさい。

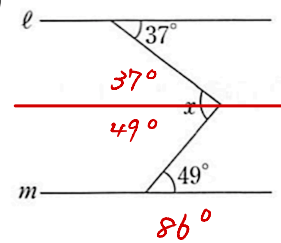
(1)



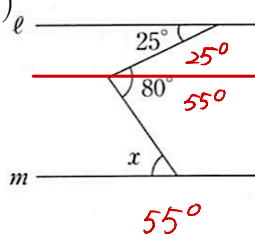
(2)



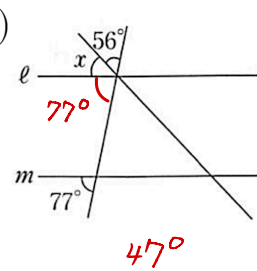
(3)



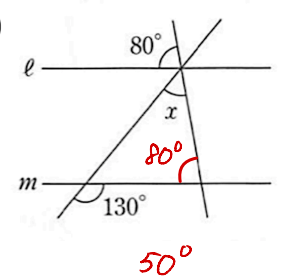
(4)



(5)

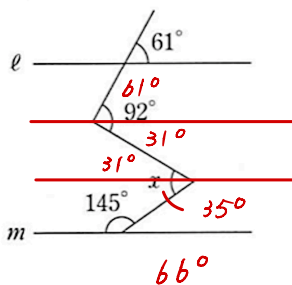


(6)

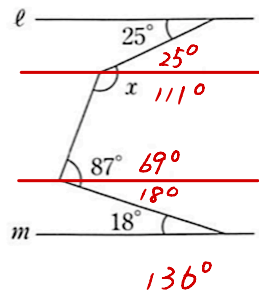


【2】 次の図で、 $l \parallel m$ のとき、 $\angle x$ の大きさを求めなさい。

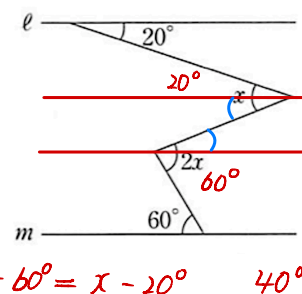
(1)



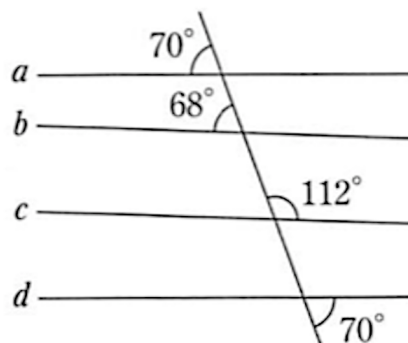
(2)



(3)



【3】 右の図の $a \sim d$ の直線について、平行であるものを記号 \parallel を使って答えなさい。



$a \parallel d, b \parallel c$

YouTubeチャンネルも見てね▶ 『ふじわら塾長』で検索!!

