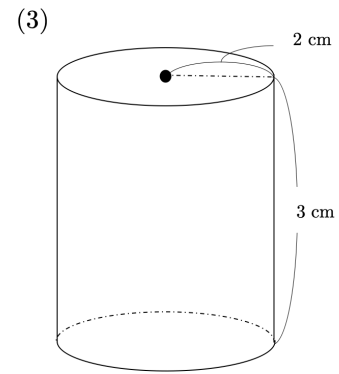
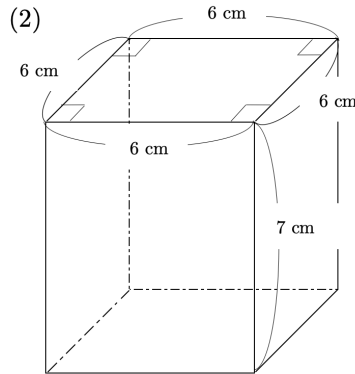
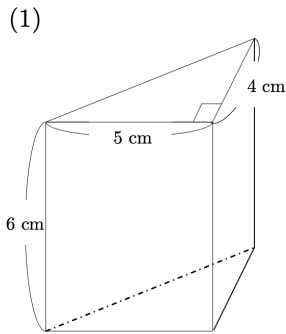
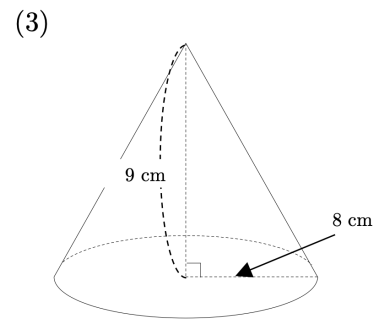
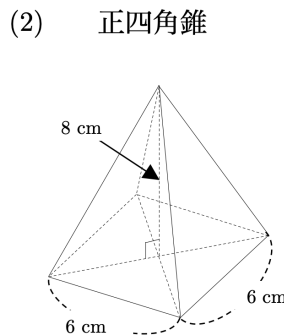
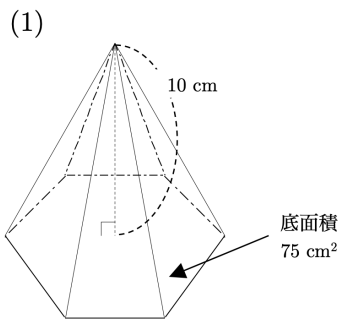


# 【中1 数学 | 単元別演習 空間図形】

【1】 次の立体の体積を求めなさい。



【2】 次の立体の体積を求めなさい。



【3】 次の立体の表面積と体積をそれぞれ求めなさい。

(1) 半径 2 cm の球

(2) 半径 3 cm の球を半分にした半球

