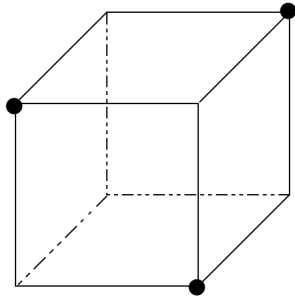


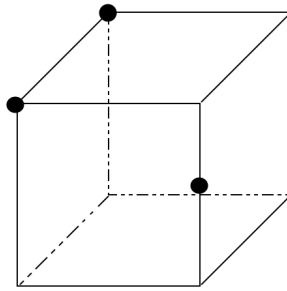
# 【中3数学 | 図形】

【1】 次の各立方体を、●の3点を通る平面で切ったときの切り口を、図に書きなさい。

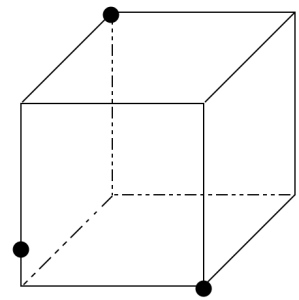
(1)



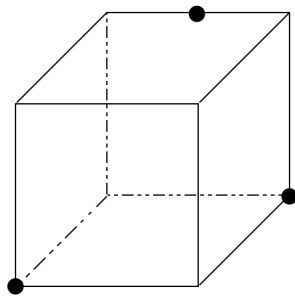
(2)



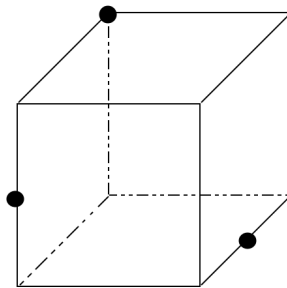
(3)



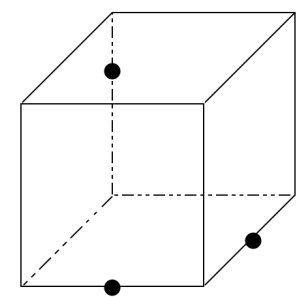
(4)



(5)



(6)



立体の切断面をとらえる3つのポイント

- I. 同じ表面上にある2点は、直線で結ぶ。
- II. 平行な表面上の切り口は、平行線になる。
- III. I, IIで引いた直線を伸ばす。

YouTubeチャンネルも見てね▶ 『ふじわら塾長』で検索!!

