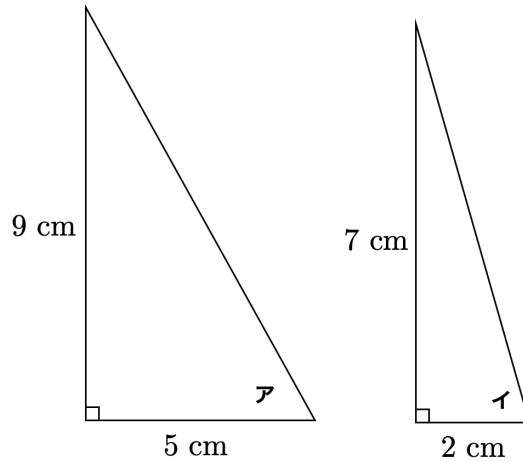



【算数 | 図形パズル】

【1】図のように、直角三角形が2つある。アとイの角の和を求めよ。


《ジュニア算数五輪トライアル 19》



【2】ひろこさんは25ピースのジグソーパズルを持っていたが、1ピースなくしてしまっただ。下の図は残った24ピースである。



なくした1個のピースは、下のうちのどれか。



《算数五輪キッズ BEE トライアル 19》

YouTubeチャンネルも見てね▶ 『ふじわら塾長』で検索!!

